

Всероссийская олимпиада по географии
2024/25 учебный год
Школьный этап

Задания для участников 10 класса

Время, отведенное на выполнение заданий обоих туров – 90 минут
Максимальное количество баллов за оба тура – 66.

Внимательно прочитайте каждое задание. Ответ записывайте разборчиво.

Примечание. Не разрешается пользоваться школьными атласами и другими источниками информации.

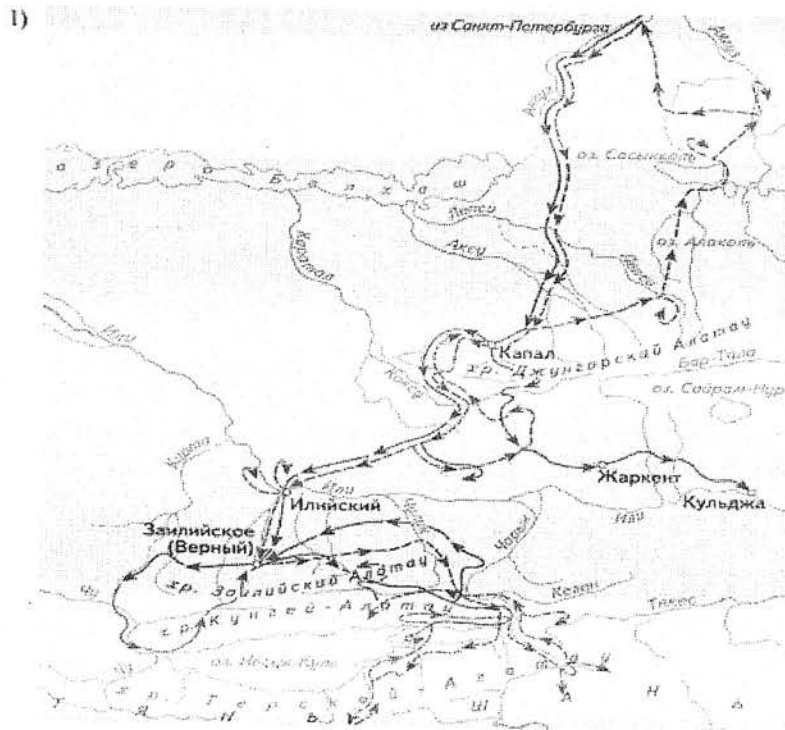
Шифр ГЕОГР-10-9

ЗАДАНИЯ ТЕОРЕТИЧЕСКОГО ТУРА

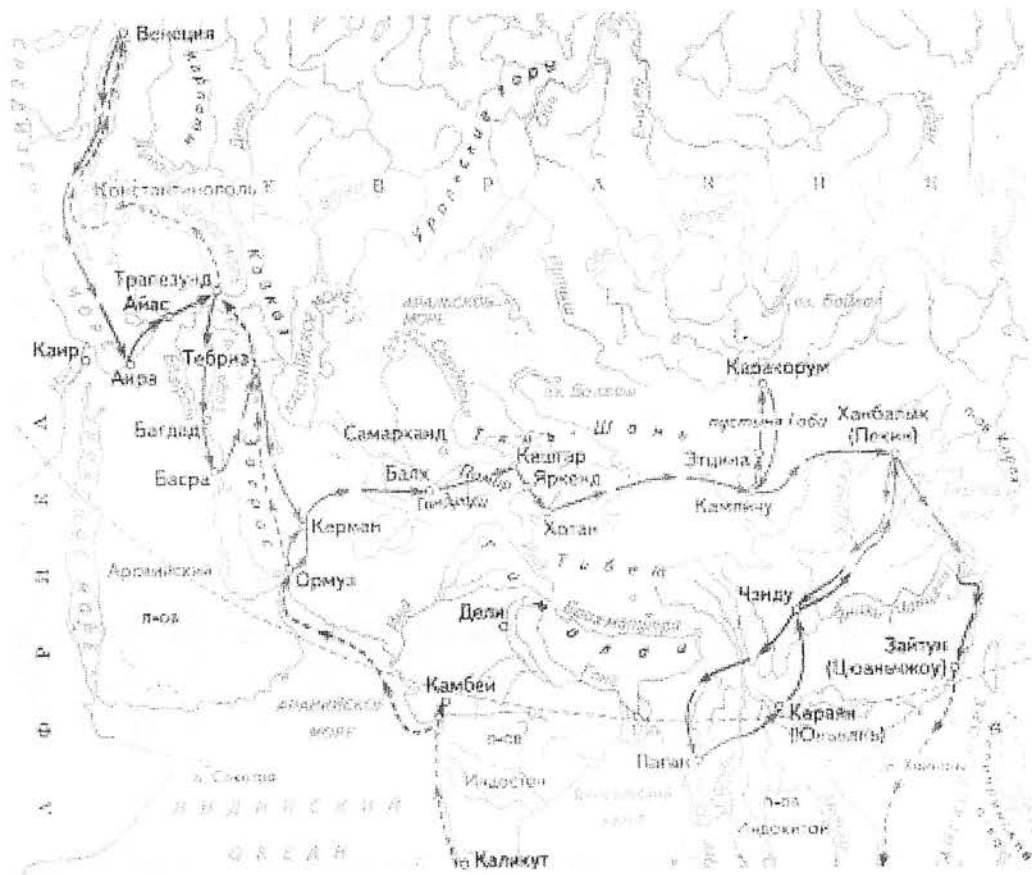
Задание	1	2	3	4	5	6	Итого
Максимальное кол-во баллов	2	10	5	10	15	6	48
Оценка участника	2	10	5	10	15	6	48

Задание 1. Выберите номер картосхемы с маршрутами экспедиций выдающегося отечественного географа и путешественника, проводившего свои исследования в обширном субрегионе, значительная часть которого относится к области внутреннего стока. В честь исследователя названы горные хребты и горные вершины в районе его исследования, а также один из подвидов травоядного млекопитающего.

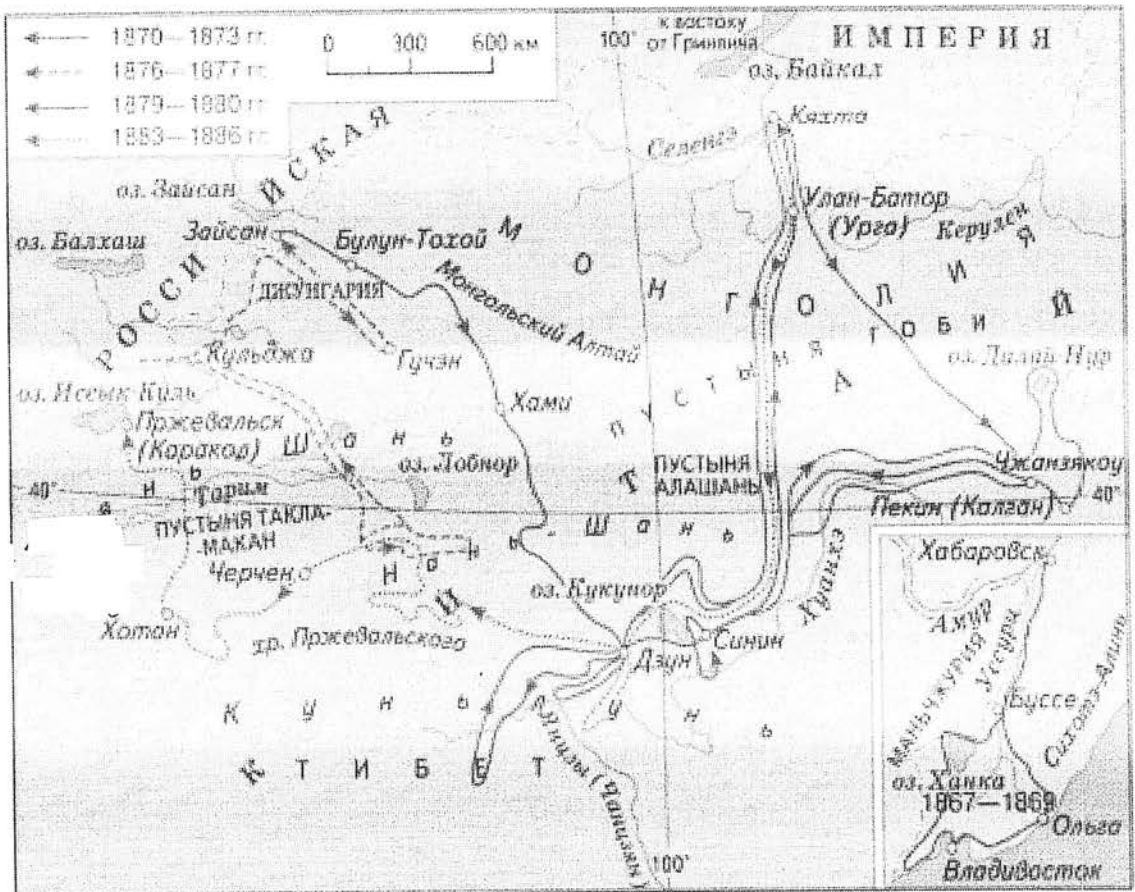
Критерии оценивания: за правильный ответ 2 балла.



2)



3)



Задание 2. Определите ошибку в логических рядах географических объектов России. В скобках к каждому ряду дана подсказка, которая помогает объяснить, по какому принципу исключается географический объект. Объясните причину выбора ошибки. Учтите, что все географические объекты должны характеризовать особенности географии России. Ответы занесите в таблицу.

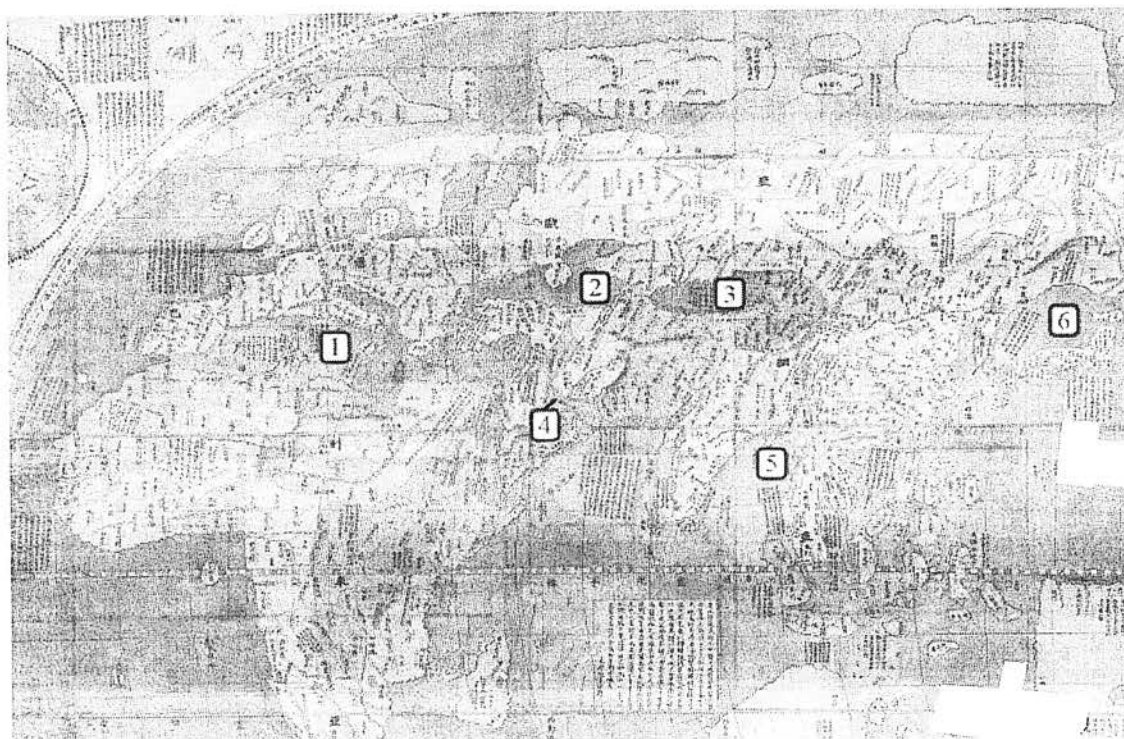
- 1) Сургут – Нижневартовск – Омск – Новосибирск – Барнаул (географическое положение)
- 2) Махачкала – Нальчик – Ставрополь – Сыктывкар – Саранск (административно-территориальное устройство)
- 3) Новокузнецк – Магнитогорск – Нижний Тагил – Череповец – Саяногорск (промышленность)
- 4) Краснодарский край – Алтайский край – Омская область – Республика Башкортостан – Оренбургская область (зерновое хозяйство)
- 5) Новороссийск – Приморск – Ванино – Астрахань – Мурманск (транспорт)

№ п/п	Ошибка в логическом ряду (1 балл за верный ответ)	Причина ошибки (1 балл за верный ответ)
1	Омск	Омск расположен на чётном, а все другие города на odd
2	Ставрополь	Ставрополь – центр края, а все другие другие города – центры республик
3	Саяногорск	Все города – центры первой величины, Саяногорск – нет
4	Краснодарский край	В Краснодарском крае выделяют общину Мичурин, а в остальных объектах Эволю
5	Астрахань	Астрахань – речной порт, а остальные города – морские порты

Критерии оценивания: за каждый правильный ответ 1 балл, всего 10 баллов.

Задание 3. Перед вами фрагмент китайской карты мира, изготовленной в 1602 г. (карта Маттео Риччи), на которой цифровыми индексами обозначены обособленные части Мирового океана. Мы уверены, что вы легко определите пронумерованные водные объекты, учитывая их расположение и очертания на представленной карте. В качестве задания мы предлагаем вам расположить данные объекты в порядке возрастания их средней глубины. Ответ запишите по образцу: 1_4_5_2_6_3

4_3_2_1_6_5



Критерии оценивания: за правильный ответ 5 баллов.

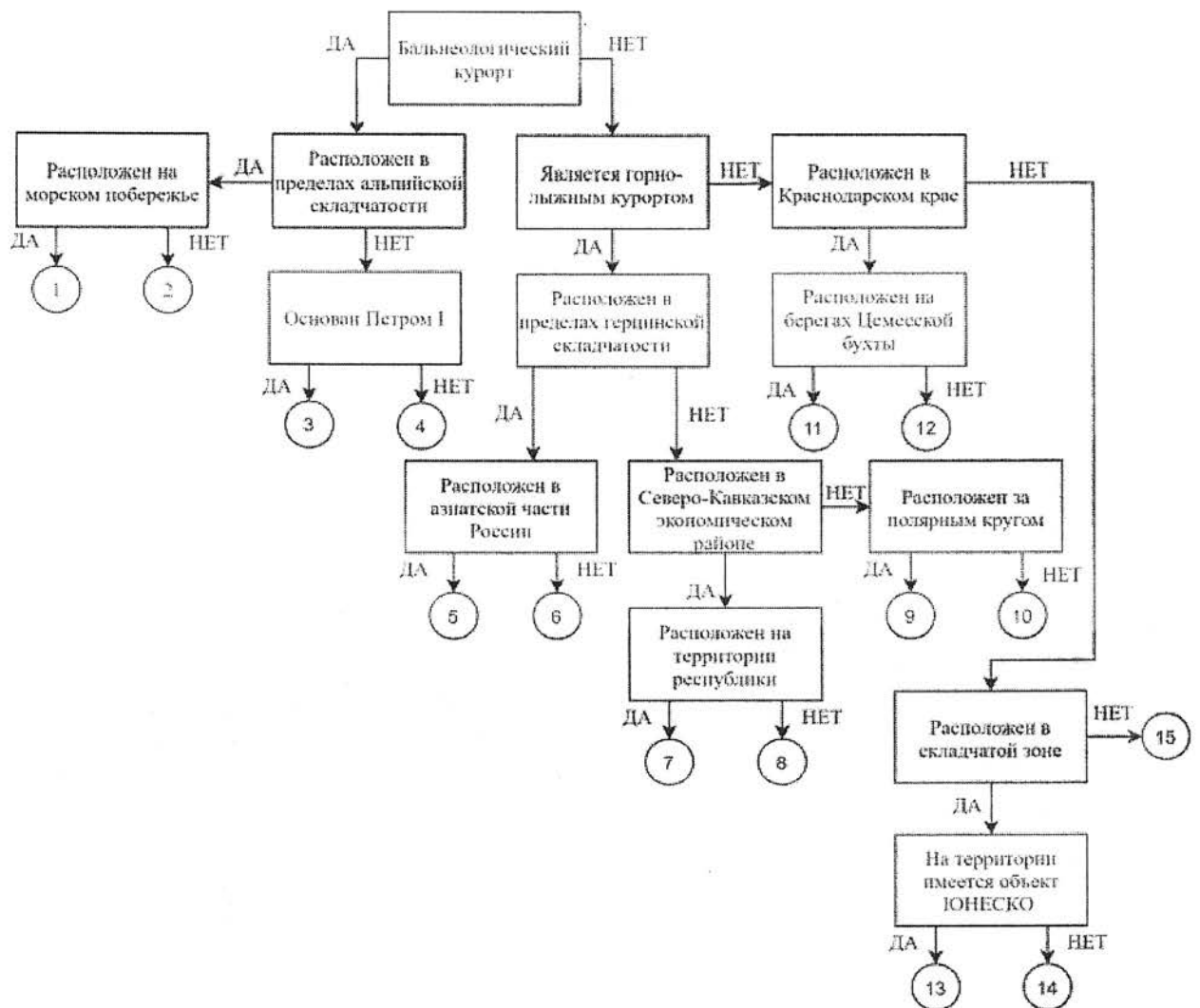
Задание 4. У Н.С. Гумилева много «географических стихотворений». Вот отрывок из одного из них. Ответьте на вопросы в правой колонке таблицы.

<p>Здравствуй, _____ море, акуля уха, Негритянская ванна, песчаный котел! На утесах твоих вместо влажного мха Известняк, словно каменный кактус, расцвел... ...Целый день над водой, словно стая стрекоз, Золотые летучие рыбы видны, У песчаных, серпами изогнутых кос Мели, точно цветы, зелены и красны.... ... И когда выплывает луна на зенит, Ветр проносится, запахи леса тая, От Суэца до Баб-эль-Мандеба звенит, Как Эолова арфа, поверхность твоя.</p>	<p>1) Что это за море? <i>Красное</i> 2) Какова его солёность? <i>42‰</i> 3) Какие части света омывает? <i>Азия и Африку</i> 4) Чем объясняется его название? 5) Почему его называют «акульей ухой»? 6) С какими океанами и как оно связано? 7) Назовите город, расположенный недалеко от его побережья и хранящий святыни одной из мировых религий. <i>Мекка</i> <i>и) Вода ярко-красная, поэтому получила название от красных водорослей, которые растут у берегов</i> <i>б) много акул и других хищных рыб</i> <i>в) Суэцкий канал, Баб-эль-Мандебский пролив, со Средиземным, Индийским океанами</i></p>
--	--

Критерии оценивания: за каждый правильный ответ 1 балл, всего 7 баллов.

Задание 5. Следуя алгоритму, распределите перечисленные курорты по соответствующим номерам.

Липецк	4	Марциальные Воды	3	Губаха	6
Домбай	7	Новороссийск	11	Кисловодск	2
Ейск	12	Мацеста	1	Яхрома	10
Сестрорецк	15	Дербент	13	Гурзуф	14
Красная Поляна	8	Кировск	9	Белокуриха	5



Критерии оценивания: за каждый правильный ответ 1 балл, всего 15 баллов.

Задание 6. Определите названия областей РФ – А, Б, В, которые обладают следующими характеристиками:

- все три субъекта РФ входят в состав одного экономического района и имеют выход к государственной границе;
- в субъектах РФ А и Б численность населения областных центров менее 500 тыс. человек;
- в регионах Б и В действуют АЭС.

Прочитайте дополнительные характеристики субъектов РФ и определите, какие из них будут касаться определённых Вами областей (три характеристики для каждой области).

- 1) Название центра субъекта РФ дало имя крупнейшему бассейну железных руд в нашей стране.
- 2) На территории области в 1943 году произошло самое крупное в истории танковое сражение.
- 3) Областной центр стоит на реке, относящейся к бассейну самого тёплого моря, омывающего берега нашей страны.
- 4) В субъекте РФ действует крупный электрометаллургический комбинат.
- 5) Название субъекта РФ дало название тектонической структуре, представляющей собой поднятие кристаллического фундамента платформы.
- 6) На территории области расположен заповедник, в названии которого фигурирует тип самой плодородной почвы нашей страны.

7) На территории области расположен заповедник, символом которого является выхухоль, в его пределах находится музей-заповедник, знаменитый своими пещерными монастырями.

8) В регионе производят самолёты и ракетные двигатели для космической техники.

9) Субъект РФ граничит с областью, административный центр которой был столицей соседней республики в 1919–1934 гг.

Буква области	Название области
А	Белгородская область
Б	Курская область
В	Воронежская область

Критерии оценивания: за каждый правильный ответ 2 балла, всего 6 баллов.

ЗАДАНИЯ ТЕСТОВОГО ТУРА

Задание	1	2	3	4	5	6	7	8	9	10	Итого
Максимальное кол-во баллов	0,5	0,5	0,5	0,5	0,5	1	0,5	1	1	1	
Оценка участника	0,5	0,5	0	0	0,5	0	0	0	0	1	
Задание	11	12	13	14	15	16	17	18	19	20	
Максимальное кол-во баллов	0,5	1	0,5	1	0,5	1	1	1,5	2	2	18
Оценка участника	0	0	0	1	0	0	1	0	0,5	0	5

1. Какое из утверждений, построенных по принципу: «пограничное с Россией государство – объект, по которому проходит граница с этой страной», НЕ верно?

- а) КНР – река Шилка.
- б) Украина – Донецкий кряж.
- в) Финляндия – гряда Манселькя.
- г) Эстония – Псковское озеро.

Ответ: а

Критерии оценивания: за правильный ответ - 0,5 балла.

2. Какой географический объект не носит имя Витуса Беринга

- а) остров
- б) залив
- в) море
- г) пролив

Ответ: б

Критерии оценивания: за правильный ответ - 0,5 балла.

3. Какое государство является одновременно монархией и федерацией?

- а) Австрия;
- б) Бельгия;
- в) Швеция;
- г) Великобритания.

Ответ: в

Критерии оценивания: за правильный ответ - 0,5 балла.

4. Какая из стран располагается на разных материках?

- а) Россия;
- б) Казахстан;
- в) Турция;
- г) Египет.

Ответ: а

Критерии оценивания: за правильный ответ - 0,5 балла.

5. 90% населения Бразилии говорит на языке:

- а) испанском;
- б) португальском;
- в) английском;
- г) бразильском.

Ответ: б

Критерии оценивания: за правильный ответ - 0,5 балла.

6. Суэцкий канал был восстановлен и реконструирован. Почему же большая часть грузов в Европу из Азии транспортируется вокруг Африки?

- а) из-за НТР в морском судоходстве, проявившейся в увеличении грузоподъемности судов;
- б) из-за опасности столкновения судов в Красном море, так как оно имеет небольшую ширину;
- в) из-за высоких таможенных пошлин и транспортных затрат на проводку через Суэцкий канал;
- г) из-за действия пиратов в прибрежных водах;
- д) из-за осложнений в зоне арабо-израильского конфликта.

Ответ: д

Критерии оценивания: за правильный ответ - 1 балл.

7. Выберите неверное соответствие между транспортной магистралью и её типом.

- а) «Балтика» – нефтепровод
- б) «Транссиб» – железная дорога
- в) «Северный поток» – газопровод
- г) «Дон» – автомобильная магистраль

Ответ: г

Критерии оценивания: за правильный ответ - 0,5 балла.

8. Выберите неверное соответствие «учёный – достижения».

- а) Н.И. Вавилов – создал учение о мировых центрах происхождения культурных растений.
- б) П.П. Семёнов-Тян-Шанский – основоположник генетического почвоведения и учения о природных зонах
- в) Ч. Лайель – заложил основы современной геологии.
- г) В.В. Докучаев – сформулировал закон географической зональности.

Ответ: б

Критерии оценивания: за правильный ответ - 1 балл.

9. Выберите название титульного этноса самого северного национального субъекта РФ Европейской России.

- а) саамы
- б) карелы
- в) якуты
- г) ненцы

Ответ: а

Критерии оценивания: за правильный ответ - 1 балл.

10. Выберите верное утверждение о чёрной металлургии в России.

- а) Россия занимает первое место в мире по выплавке стали.
- б) Металлургические заводы Центральной России используют сырьё КМА.
- в) Череповецкий металлургический комбинат использует железорудный концентрат и коксующийся уголь Казахстана.
- г) Старейшая база чёрной металлургии России расположена в Сибири.

Ответ: б

Критерии оценивания: за правильный ответ - 1 балл.

11. Выберите верное утверждение о машиностроении в России.

- а) Основная часть производства автомобилей сосредоточена в Северо-Западном экономическом районе.
- б) Выборг, Архангельск, Комсомольск-на-Амуре – центры авиастроения.
- в) Тихвин, Тверь и Верхняя Пышма являются центрами железнодорожного машиностроения.
- г) Новосибирск, Белгород, Екатеринбург – крупные центры производства грузовых автомобилей.

Ответ: а

Критерии оценивания: за правильный ответ - 0,5 балла.

12. Посетив какой субъект РФ, Вы окажетесь вблизи зоны субдукции?

- а) Краснодарский край
- б) Камчатский край
- в) Алтайский край
- г) Приморский край

Ответ: г

Критерии оценивания: за правильный ответ - 1 балл.

13. Выберите регион с наиболее плодородными почвами.

- а) Московская область
- б) Владимирская область
- в) Нижегородская область
- г) Ульяновская область

Ответ: б

Критерии оценивания: за правильный ответ - 0,5 балла.

14. Выберите вариант, в котором все указанные города являются столицами монархий.

- а) Осло, Мбабане, Хельсинки, Дублин
- б) Абу-Даби, Лондон, Масеру, Нукуалофа
- в) Джакарта, Бандар-Сери-Бегаван, Куала-Лумпур, Дакка
- г) Катманду, Тхимпху, Мадрид, Кабул

Ответ: б

Критерии оценивания: за правильный ответ - 1 балл.

15. Хамсин – это название...

- а) народа
- б) ветра
- в) реки
- г) горы

Ответ: б

Критерии оценивания: за правильный ответ - 0,5 балла.

16. Для защиты животных во многих странах разработаны дорожные знаки, предупреждающие водителей и призывающих их к бдительности. В одном регионе мира общая численность пингвинов сейчас составляет около 50 тыс., но они внесены в Красную книгу этой страны и Международную красную книгу региона как вид, которому грозит вымирание. Поэтому дорожный знак «Осторожно, пингины!» выглядит здесь вполне органично. В какой из перечисленных стран размещен следующий знак?

- а) Египет
- б) ЮАР
- в) Чили
- г) Испания

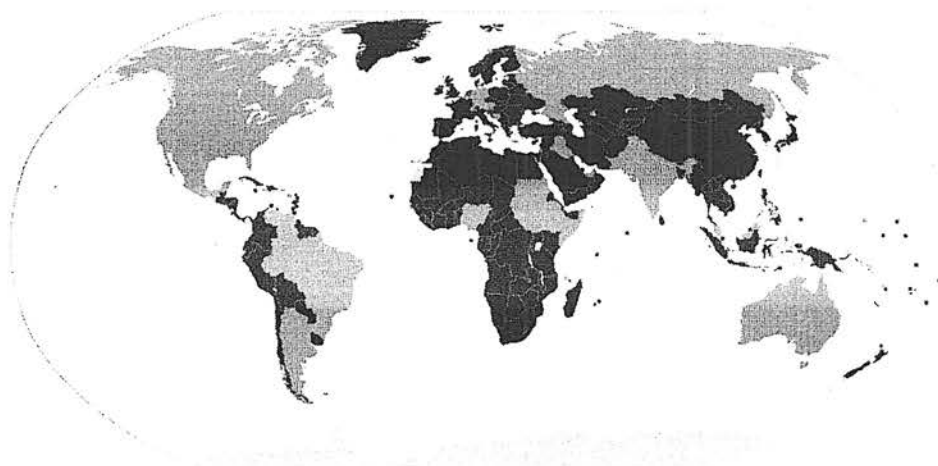


Ответ: б

Критерии оценивания: за правильный ответ - 1 балл.

17. Выберите верный вариант ответа. Более светлым цветом на этой карте отмечены государства:

- а) с федеративной формой государственного устройства
- б) с монархической формой правления
- в) с наименьшей плотностью населения
- г) с наибольшей водообеспеченностью на душу населения.



Ответ: а

Критерии оценивания: за правильный ответ - 1 балл.

18. Выберите строки, в которых указана общая черта для Австралии и Сомали:
- А) дефицит поверхностных вод и сезонный характер водности рек

- Б) в столицах стран проживает почти половина их населения
В) страны по государственному устройству являются федерациями
Г) рельеф обеих стран – преимущественно равнинный
Д) относятся к странам со среднемировой плотностью населения
Е) восточные побережья стран омываются тёплыми течениями

Ответ: БГД

Критерии оценивания: за правильный ответ - 0,5 балла.

19. Выберите из списка географические объекты, относящиеся к Германии:

- а) Гауда б) Гарц в) Вадуц г) Дунай
д) Росток е) Энгельс ж) Тейде з) Тюрингия

Ответ: Б

Критерии оценивания: за правильный ответ – 2 балла.

20. Расположите города мира в хронологической последовательности года их основания (от самого древнего к самому молодому):

- А) Иерусалим Б) Гавана В) Киров Г) Красноярск

Ответ: Б А В Г

Критерии оценивания: за правильный ответ – 2 балла.

Всероссийская олимпиада по географии
2024/25 учебный год
Школьный этап

Задания для участников 5-6 класса

Инструкция по выполнению работы

Время, отведенное на выполнение заданий обоих туров – 90 минут
Максимальное количество баллов за оба тура – 50.
Внимательно прочитайте каждое задание.
Ответ записывайте разборчиво.

Примечание. Не разрешается пользоваться школьными атласами и другими источниками информации.

Шифр ГЕОПР-6-4

ЗАДАНИЯ ТЕОРЕТИЧЕСКОГО ТУРА
Общее количество баллов – 35 баллов

Задание	1	2	3	4	5	6	Итого
Максимальное кол-во баллов	2	3	3	3	22	2	35
Оценка участника	2	3	2	3	12	2	24

Задание 1.

Существуют ли на Земле точки, для определения, местонахождения которых достаточно определить только широту? Если да, то назовите их.

Ответ: Да, Северный и Южный полюс

Критерии оценивания: за правильный ответ – 2 балла.

Задание 2.

Исправьте географические ошибки

- 1. Город Мадагаскар Остров ;
- 2. Ладожское море озеро ;
- 3. Озеро Амазонка река ;
- 4. Аравийский залив полуостров ;
- 5. Остров Гималаи горы ;
- 6. Красное озеро море .

Критерии оценивания: за каждый верный ответ - 0,5 балла. Всего – 3 балла.

Задание 3.

К какому понятию принадлежат следующие ассоциации:

- Волна, землетрясение, опасность, скорость, бедствие цунами
- Скалы, пороги, зрелище, грохот, вода река
- Океан, лёд, гора, опасность Альберт

Критерии оценивания: за каждый верный ответ - 1 балл. Всего – 3 балла.

Задание 4.

Один невнимательный ученик на плане местности обозначил зеленым цветом следующие объекты:

а) лес; б) луг; в) пристань на реке; г) заросли кустарника; д) водяную мельницу.
 Какие объекты надо обозначить другим цветом? Каким?

в) пристань на реке и д) водяную мельницу черным цветом
 Критерии оценивания: за каждый верный ответ - 1 балл. Всего - 3 балла.

Задание 5. Прочитайте текст о географических рекордах материков нашей планеты и замените пропуски, обозначенные числами, на слова (словосочетания) или числа. Словами (словосочетаниями) в ответах могут быть географические названия, термины и понятия. Числовые ответы запишите цифрами, округлив до целого числа.

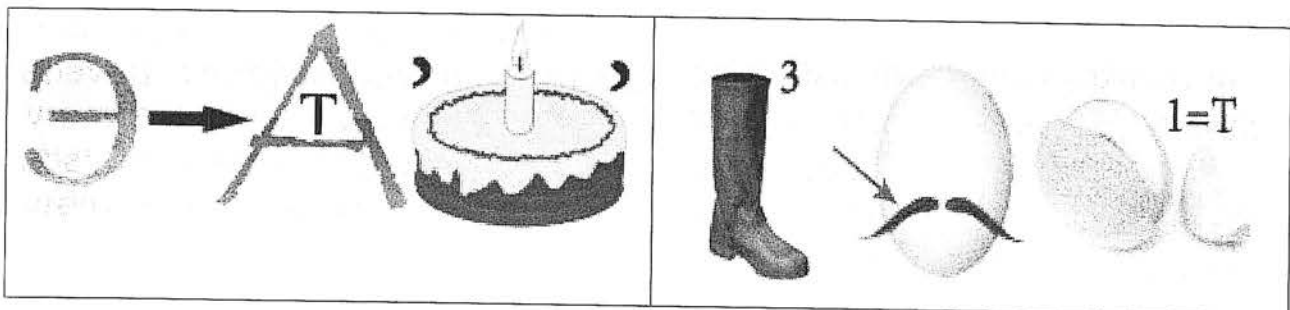
На нашей планете шесть материков, и каждый из них обладает своими географическими особенностями и рекордами.

На самом большом по площади континенте Земли в горах (1) находится наивысшая точка планеты с высотой (2) метров над уровнем моря и самая низкая отметка суши – уровень (3) моря, которое на самом деле является озером. На этом же континенте располагаются самое большое по площади озеро мира – (4) море и самое глубокое в мире озеро – (5). Эти озёра находятся в самой большой по площади стране мира – (6). Самая длинная в мире река – (7), протекает по территории четвёртого по площади континента планеты. Долгое время самой длинной рекой считался (8), протекающий по территории самого жаркого материка Земли. Но самая высокая температура воздуха на планете зарегистрирована в (9), которая расположена на третьем по площади материке планеты. Самая низкая температура воздуха отмечена на материке (10). От ближайшего к нему континента он отделён самым широким проливом в мире под названием пролив (11).

№	Ответы	№	Ответы
1	Гималаи	7	Амазонка
2	1000	8	Нил
3		9	Сахара
4	Мёртвое	10	Антарктида
5	Байкал	11	Мелешапов
6	Россия		

Критерии оценивания: за каждый верный ответ - 2 балла. Всего - 22 балла.

Задание 6. Максимальная оценка 2 балла (за каждый верный ответ 1 балл).
 Отгадайте географические ребусы?



Ответ: эватор, пустыня

Критерии оценивания: за каждый верный ответ - 1 балл. Всего - 2 балла.

ЗАДАНИЯ ТЕСТОВОГО ТУРА
Общее количество баллов – 15 баллов

Задание	1	2	3	4	5	6	7	8	Итого
Максимальное кол-во баллов	0,5	0,5	0,5	0,5	0,5	0,5	0,5	0,5	
Оценка участника	0,5	0	0,5	0,5	0,5	0,5	0,5	0,5	
Задание	9	10	11	12	13	14	15	16	Итого
Максимальное кол-во баллов	0,5	0,5	0,5	0,5	1	1	2	5	15
Оценка участника	0	0,5	0,5	0,5	0	1	0	5	11

1. Что изучают естественные науки?

- 1) образ жизни людей 2) историю цивилизаций
 3) экономику страны 4) природу окружающего мира

Критерии оценивания: за правильный ответ - 0,5 балла.

2. Воображаемая прямая, проходящая через центр Земли, вокруг которой происходит суточное вращение Земли:

- 1) полярный круг; 2) земная ось; 3) экватор; 4) северный полюс.

Критерии оценивания: за правильный ответ - 0,5 балла.

3. Днём и ночью, в любую погоду верным путеводителем является компас. Где появился первый компас?

- 1) в Японии; 2) в Индии; 3) в Испании; 4) в Китае.

Критерии оценивания: за правильный ответ - 0,5 балла.

4. Назовите сторону горизонта, противоположную северо-востоку:

- 1) юго-восток; 2) юго-запад; 3) северо-запад; 4) север

Критерии оценивания: за правильный ответ - 0,5 балла.

5. Какая природная зона описана в тексте?

«Лето тёплое, но зима суровая, преобладают хвойные растения, так как они менее требовательны к теплу. Животный мир разнообразен».

- 1) тундра 2) тайга 3) пустыня 4) арктическая пустыня

Критерии оценивания: за правильный ответ - 0,5 балла.

6. Какое озеро России включено в список объектов Всемирного природного наследия?

- 1) Ладожское 2) Байкал 3) Каспийское 4) Онежское

Критерии оценивания: за правильный ответ - 0,5 балла.

7. Ближайшими к Земле планетами Солнечной системы являются:

- 1) Сатурн и Юпитер; 2) Марс и Венера;
 3) Юпитер и Марс; 4) Венера и Меркурий

Критерии оценивания: за правильный ответ - 0,5 балла.

8. Чем является Солнце в Солнечной системе?

- 1) звездой 2) планетой 3) крупным астероидом 4) кометой

Критерии оценивания: за правильный ответ - 0,5 балла.

9. Какое утверждение неверно?

- 1) Лес — защитник почвы 2) Лесов так много, что вырубить их все невозможно
 3) Лес очищает воздух 4) Лес защищает почву от разрушения.

Критерии оценивания: за правильный ответ - 0,5 балла.

10. Что является основным занятием людей в тундре?

- 1) растениеводство; 2) рыболовство; 3) оленеводство

Критерии оценивания: за правильный ответ - 0,5 балла.

11. На каком материке находится наша страна:

1) Европа 2) Азия 3) Северная Америка ④ Евразия

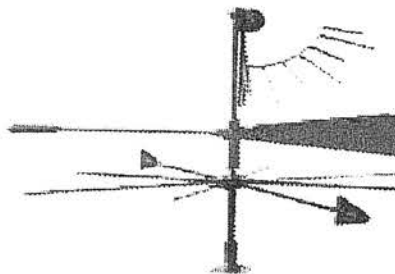
Критерии оценивания: за правильный ответ - 0,5 балла.

12. Первым кругосветное путешествие совершила экспедиция:

1) Х. Колумба; ② Ф. Магеллана; 3) Васко да Гамы; 4) Афанасий Никитин

Критерии оценивания: за правильный ответ - 0,5 балла.

13. Этот простой метеорологический прибор называется (1), с его помощью можно измерить (2).




- А) 1 – флюгер, 2 – угол;
 Б) 1 – стрелка, 2 – направление;
 В) 1 – флюгер, 2 – направление, скорость;
 ① Г) 1 – анемометр, 2 – силу.

Критерии оценивания: за правильный ответ – 1 балл.

14. В какой природной зоне могли быть сделаны представленные фотографии.

Запишите название природной зоны.



Ответ: Тундра

Критерии оценивания: за правильный ответ – 1 балл.

15. Установите соответствие между названиями природных зон и географическими особенностями, которые характерны для каждой из них.

ГЕОГРАФИЧЕСКИЕ ОСОБЕННОСТИ

ПРИРОДНЫЕ ЗОНЫ

- А) расположена в умеренном поясе Северного полушария; 1) тундра
 Б) растительность скудная; 2) тайга
 В) занимает обширные районы крайнего севера России;
 Г) растут сосны, ели, пихта;
 Д) большое количество мхов и лишайников;
 Е) местообитание лисы, зайца, куропатки, белки и др.



Запишите в таблицу выбранные цифры под соответствующими буквами.

А	Б	В	Г	Д	Е

Критерии оценивания: за правильный ответ – 2 балла.

16. В различных уголках мира обитают нелетающие птицы. Установите соответствия: «изображение нелетающей птицы – её название – ареал обитания».

- 1) африканский страус 2) нанду 3) киви 4) казуары 5) императорский пингвин



I) Антарктида

II) Африка

III) Новая Зеландия

IV) Австралия

V) Южная Америка

Ответ:

A-5-I, Б-4-IV, В-1-II, Г-3-III, Д-2-V

Критерии оценивания: за правильный ответ – 5 баллов.

Задания для участников 11 класса

Время, отведенное на выполнение заданий обоих туров – 90 минут
Максимальное количество баллов за оба тура – 100.

Внимательно прочитайте каждое задание. Ответ записывайте разборчиво.

Примечание. Не разрешается пользоваться школьными атласами и другими источниками информации.

Шифр Географ-11-3

Часть 1 – тестовый тур

1. Укажите государство, к которому относятся Фарерские острова:

- а) Португалия;
- б) Испания;
- в) Дания;
- г) Швеция.

—
Ответ: в

Критерии оценивания: за правильный ответ - 1 балл.

2. Определите страну по ее краткому описанию.

В этой стране железнодорожный транспорт получил развитие достаточно давно, и сегодня не играет ведущей роли, но по показателям его работы, например, по грузообороту, страна прочно лидирует в мире. Страна также лидирует по протяженности сети железных дорог, однако доля электрифицированных дорог крайне мала, и составляет всего 1%.

- а) Россия;
- б) Канада;
- в) Китай;
- г) США;
- д) Германия.

—
Ответ: а

Критерии оценивания: за правильный ответ - 1 балл.

3. Выберите вариант, в котором присутствуют только страны – абсолютные монархии:

- а) Великобритания, Дания, Испания;
- б) ОАЭ, Катар, Оман;
- в) Германия, Австрия, Индия;
- г) США, Франция, Россия.

+
Ответ: б

Критерии оценивания: за правильный ответ - 1 балл.

4. Укажите остров, на котором находятся территория формально одного государства, а фактически - двух государств:

- а) Тимор;
- б) Калимантан;
- в) Кипр;
- г) Крымский;
- д) Ирландия.

+
Ответ: б

Критерии оценивания: за правильный ответ - 1 балл.

5. В какой из стран столица не является крупнейшим городом своей страны?

- а) Египет
- б) Франция
- в) Чехия
- г) Аргентина
- д) Швейцария

Ответ: г

Критерии оценивания: за правильный ответ - 1 балл.

6. Выберите группу стран с самым высоким естественным приростом населения:

- а) КНДР, США, Австралия, Япония;
- б) Испания, Сан-Марино, Словакия, Россия;
- в) Латвия, Сербия, Болгария, Украина;
- г) Нигер, Уганда, Малави, Бурунди.

Ответ: г

Критерии оценивания: за правильный ответ - 1 балл.

7. Выберите группу стран с минимальным уровнем урбанизации в мире:

- а) Бельгия, Венесуэла, Великобритания, Австралия;
- б) Бурунди, Малави, Уганда, Кения;
- в) Чехия, Россия, Болгария, Швейцария;
- г) Германия, Белоруссия, Греция, Испания.

Критерии оценивания: за правильный ответ - 1 балл.

8. Выберите вариант, в котором представлены только самые крупнейшие морские порты мира:

- а) Нагоя, Хьюстон, Антверпен, Тибя;
- б) Гамбург, Сан-Луис, Ванкувер, Иокогама;
- в) Амстердам, Хошимин, Ричардс-Бей, Кобе;
- г) Шанхай, Сингапур, Тяньцзинь, Гуанчжоу.

Критерии оценивания: за правильный ответ - 1 балл.

9. Определите страну по ее краткому описанию.

Эта страна входит в десятку крупнейших в мире по площади и по населению. Страна имеет большую долю обрабатываемых земель и благоприятные агроклиматические условия. Большая часть расположена в пределах докембрийской плиты. Недра страны богаты месторождениями железных, медных, марганцевых, вольфрамовых руд, бокситов, хромитов, слюды, золота, алмазов, редких и драгоценных камней, а также каменного угля, нефти и газа. Приморская полоса восточного побережья местами заболочена. Большая доля водных ресурсов приходится на две крупных реки, протекающих на севере страны и общую дельту, занимающую площадь свыше 80 тыс. км². Слабо расчленённые, низкие, песчаные берега почти не имеют удобных естественных гаваней, поэтому крупные порты расположены либо в устьях рек, либо устроены искусственно. Почти 70% жителей страны проживают в сельских регионах, хотя за последние десятилетия миграция в большие города привела к резкому увеличению городского населения.

Ответ: Страна Мьянма

Крупнейшая река Тонки

Критерии оценивания: за каждый правильный ответ - 1 балл, всего - 2 балла.

10. В таблице приведены данные по запасам и добыче природного газа в России в 2015 г. (млрд.м³) по крупнейшим разрабатываемым месторождениям. Определите два месторождения, являющимися лидерами по показателю ресурсообеспеченности

Месторождение	Запасы	Добыча	Ресурсообеспеченность
---------------	--------	--------	-----------------------

Уренгойское	5370	89,7	
Заполярье	2274	79,3	
Ямбургское	3057	61,8	
Астраханское	3076	11,1	
Медвежье	556	7,6	

Ответ: 1 место Астраханское 2 место Медвежье †
 Критерии оценивания: за каждый правильный ответ - 1 балл, всего - 2 балла.


11. Какая страна из предложенного списка омывается водами только одного океана?

- а) Египет
- б) Израиль
- в) Колумбия
- г) Марокко
- д) Таиланд

Ответ: в
 Критерии оценивания: за правильный ответ - 1 балл.

12. Прочитайте описание. Назовите страну.

Этот флаг был официально принят в 1969 году. Он диагонально разделен на две части: верхняя левая часть – желтого цвета, а нижняя правая часть – оранжевого цвета. Посередине флага страны находится эмблема белого дракона, смотрящего направо. Дракон держит драгоценности в своих когтях, что обозначает богатство государства. Изображенный на флаге дракон символизирует местное наименование страны – Земля Дракона. Рычащий рот дракона представляет собой силу народа, защищающего свою страну. Оранжевый цвет обозначает монастыри и религию местную религию, а оранжево-желтый цвет символизирует светскую власть монарха. Белый цвет обозначает чистоту и преданность.



- а) Непал
- б) Бутан
- в) Бруней
- г) Камбоджа
- д) Япония

Ответ: Страна Бутан †
 Критерии оценивания: за правильный ответ - 2 балла.

13. Найдите по одному лишнему слову в каждом варианте, характеризующем отдельную страну:

- а) Беларусь: зубр, полесье, картофель, МАЗы, золото, Днепр;
- б) Италия: мода, НАТО, Рурский бассейн, туризм, рыба, Фиат, Сардиния.

Ответ: Днепр, Рурский бассейн †
 Критерии оценивания: за каждый правильный ответ - 1 балл, всего - 2 балла.

14. Выберите показатели, которые характерны и для Бразилии, и для Индии:

- а) входят в десятку крупнейших стран по численности населения
- б) слабоурбанизированные страны
- в) федеративные республики
- г) входят в пятёрку стран-лидеров по добыче железной руды
- д) высокая грамотность населения
- е) являются членами БРИКС
- ж) крупнейшие экспортёры судов

з) отраслью специализации является нефтяная промышленность

Запишите буквы, под которыми указаны все правильные варианты ответа.

Ответ: а, с, е, з

Критерии оценивания: за каждый правильный ответ - 1 балл, всего - 4 балла.

15. Выберите из предложенного списка термины, обозначающие местные ветры.

- | | |
|--|---|
| а) фригана | ж) верховик |
| <input checked="" type="radio"/> б) мистраль | <input checked="" type="radio"/> з) сюрин |
| <input checked="" type="radio"/> в) буря | <input checked="" type="radio"/> и) сирокко |
| г) падун | к) пассат |
| д) хабуб | |
| <input checked="" type="radio"/> е) гало | |

Запишите буквы, под которыми указаны все правильные варианты ответа.

Ответ: а, в, е, з, и

Критерии оценивания: за каждый правильный ответ - 1 балл, всего - 5 баллов.

16. Почтайте отрывок из сказки С. Лагерлеф «Чудесное путешествие Нильса с дикими гусями». Почему путешественники никак не могли дождаться наступления ночи?

«... А солнце катилось по небу и уставало светить.

– Не понимаю, – сказал Мартин, – летим, летим, а вечер так все никак не наступит. До чего же спать хочется!

– И мне спать хочется! – сказала Марта. – Глаза слипаются.

– Да и я бы не прочь вздремнуть, – сказал Нильс.

– Смотри, смотри, Мартин, вон аисты на болоте спят. Тут, в Лапландии, все по-другому. Может, здесь вместо луны всю ночь солнце светит?»

Ответ: Лапландия находится за северным полярным кругом. Здесь полярный день.

Критерии оценивания: за правильный ответ - 2 балла.

17. Определите субъект Российской Федерации по его описанию:

Данный субъект расположен в восточной части страны, его территория омывается водами Мирового океана. По его территории протекает одна из крупнейших рек России. На этой реке есть ГЭС, в регионе отсутствуют АЭС, но работают мощные ТЭС на топливе, в основном добываемом в этом же субъекте.

- а) Хабаровский край;
- б) Красноярский край;
- в) Забайкальский край;
- г) Чукотский автономный округ;
- д) Иркутская область.

Ответ: а

Критерии оценивания: за правильный ответ - 2 балла.

18. Для какого города указано НЕ ПРАВИЛЬНОЕ расположение на берегу реки?

- а) Барнаул – Обь;
- б) Якутск – Лена;
- в) Иркутск – Ангара;
- г) Пермь – Волга;
- д) Хабаровск – Амур;

Ответ: г

Критерии оценивания: за правильный ответ - 2 балла.

19. Как звали погибшего хантыйского князя, в честь которого назван исторический район города

Столица Ханты – Мансийского автономного округа – Югры – город Ханты – Мансийск. Ровно 430 лет назад здесь произошло важное историческое событие: небольшой отряд атамана Ермака под предводительством Богдана Брызги подошёл на лодках к хантыйскому поселению. Между казаками и ханты произошло сражение. Но казаки пошли на хитрость: они смастерили чучела людей и посадили их в лодки. Стрелы ханты со звоном отскакивали от чучел. В результате князь хантыйского поселения погиб, а все жители присягнули на верность московскому царю.

Ответ: Князь Самар

Критерии оценивания: за правильный ответ - 4 балла.

+

Часть 2 – теоретический тур

Задание 1. Вставьте пропущенные слова в данный текст описания одной из стран мира.

Рельеф страны преимущественно горный, горы занимают 71% территории, имеются многочисленные действующие и потухшие Вулканы, в том числе и высшая точка страны – Пудзунгма (на острове Тсонто, высотой 3776 м). Полезными ископаемыми бедна, практическое значение имеют лишь запасы каменного угля. Добывается также сера, йод, золото и серебро.

На севере страна омывается Охотским морем, на западе Японским морем, на юго-западе – Восточно-Кит. морем, на востоке – Тихим океаном.

Климат большей части территории – субтропический муссонный, на севере – умеренный, на юге – тропический. Свыше 2/3 занято лесами: на севере – хвойными, в центральной части – широколиственными и на юге – субтропическими вечнозелеными.

Является развитой страной, значительную долю в экономике занимает сфера услуг. По объему промышленного производства занимает одно из первых мест в мире. В обрабатывающей промышленности наиболее развиты машиностроение (производство автомобилей, электроники и электротехники, судов, станков), чёрная металлургия, химическая, текстильная и пищевая промышленность. Основным средством передвижения является автотранспорт, использующий лево стороннее движение.

По форме правления страна является Конституционной монархией во главе с интернатом. Население практически однородное, лишь на севере острова цусима проживают . В стране проживает 126 млн. человек (в 2018 г.), и по этому показателю она находится на 8 месте в мире. Большинство верующих – Буддисты и христиане причем, обычно исповедуют сразу две религии. Столицей страны является город Тсонто. В пределах столичной агломерации проживают 35 млн. человек (2017 г.).






Критерии оценивания: за каждый правильный ответ - 1 балл, всего - 16 баллов.

+12

Задание 2. Вам предлагаются описания и изображения некоторых форм рельефа, различных по своему происхождению и геоморфологических (геоморфология – наука о происхождении и формах рельефа) процессов и явлений. Выберите из предложенных списков эти формы рельефа или процессы и впишите в соответствующую колонку таблицы.

1. **Формы рельефа:** столовые горы, старица, атолл, бугры пучения, фиорд (фьорд),

№	Описание формы рельефа	Название
---	------------------------	----------

№	Описание формы рельефа	Название
1.	<p>Кольцевой коралловый риф, морфологически представляющий собой узкую гряду с замкнутой (или полузамкнутой) внутри лагуной. Размеры их различны – от нескольких километров до нескольких десятков километров. Есть поднятые (остров Науру) и погруженные (банка Робби) вследствие тектонических движений их оснований.</p>  <p>Большинство концентрируются в Индо-Тихоокеанском тропическом поясе, однако известны они и в Атлантике, например, в Карибском море и у побережья Бразилии.</p>	атолл
2.	<p>Формы рельефа, образующиеся при промерзании переувлажненных грунтов. Широко распространены в тундре и тайге. Подобный вид, но более крупные размеры (около 100 м в поперечнике и до 20 м высоты) имеют гидролакколиты и булгунняхи в Якутии.</p> 	бугры пучки
3.	<p>Старое отделившееся русло реки в излучине, превратившееся в озеро. Впоследствии в таких местах образуются сырые ложбины.</p> 	старинца
4.	<p>Платообразные горные сооружения с усеченной, плоской вершиной. Как правило, сложены из осадочных горных пород. Склоны такой горы обычно крутые, почти отвесные. В разрезе этот вид геологических образований имеет продолговатую форму, то есть в одном из направлений плато на вершине горы вытянуто. Своей усеченной в верхней части формой обязаны процессам денудации – эрозии и выветриванию. Одной из разновидностей являются те горы, у которых их плоская вершина сложена не из осадочных пород, а покрыта затвердевшей вулканической корой из лавы. Такие горы на Гвианском нагорье называются тепуи.</p> 	столовые горы
5.	<p>Узкий глубокий морской залив с высокими крутыми скалистыми берегами, далеко вдающийся в сушу. Образование таких форм увязывают с внедрением моря в ледниковые долины либо в тектонические разломы. Распространены по берегам Скандинавского п-ова, на Кольском п-ове, Чукотке.</p> 	фьорд

2. Процессы: криогенные процессы, аккумуляция, денудация, карст, эоловые процессы.

№	Описание геологического процесса	Название
1.	Процессы накопления рыхлого минерального материала и органических остатков на поверхности суши и на дне водоемов. В зависимости от основного фактора, вызывающего этот процесс, выделяют морскую, озерную, речную, ветровую, биогенную, антропогенную и другие типы.	Аккумуляция
2.	Процесс сноса и частичного перемещения продуктов выветривания горных пород под действием разных факторов и агентов (гравитации, воды, ветра и др.).	Денудация
3.	Процессы, происходящие в местах распространения многолетней и сезонной мерзлоты, при содержании в грунтах замёрзшей воды. Проявляются в пучении и морозной сортировке грунтов, растрескивании, в создании морозобойных клиньев и т.д.	Криогенные процессы
4.	Группа внешних (экзогенных) процессов, связанных с деятельностью ветра. Наиболее активно проявляются в аридных (сухих) условиях. Различают действие с созданием ниш, котлов выдувания и аккумулятивное – с образованием дюн, барханов и др.	Эоловые процессы
5.	Название этого процесса произошло от одноименного наименования известнякового плато в Словении. Он представляет собой совокупность процессов и явлений, связанных с деятельностью воды и выражающихся в растворении горных пород и образовании в них пустот, а также своеобразных форм рельефа, возникающих на местностях, сложенных сравнительно легко растворимыми в воде горными породами – гипсом, известняком, мрамором, доломитом и каменной солью.	Карст

Критерии оценивания: за каждый правильный ответ - 1 балл, всего - 10 баллов.

+10

Задание 3.

В предложенном тексте в скобках подчеркнуть правильные ответы.

Республика Саха (Якутия) – субъект РФ в (Дальневосточном/Сибирском) федеральном округе; относится к Восточно-(Сибирскому/Дальневосточному) экономическому району. Образован в 1922 г. Административный центр – город Якутск, в котором в 2108 г. проживает (312 тыс. чел. /964 тыс. чел.). Граничит с Чукотским АО и Магаданской областью на востоке, с Хабаровским краем на юго-востоке, на юге – с Амурской областью и Забайкальским краем, с на западе граничит с Красноярским краем. Время в республике отличается от московского на (4 /5 /6 / 7/ 8) часов. Регион является (первым/вторым) по площади субъектом России. Площадь территории – 3 103,3 тыс. км², что составляет 18,1% территории России. На севере она омывается водами двух морей – (морем Лаптевых/Чукотским морем) и (Восточно-Сибирским морем/Карским морем). На севере в состав Якутии (входит архипелаг Северная Земля/ входят Новосибирские острова).

Всего в Якутии сосредоточено большое количество российских запасов угля. Масштабная угледобыча ведётся в Южно-Якутском (буроугольном/каменноугольном) бассейне. На западе региона возле города (Мирный/Норильск) создана и существует и сегодня очень мощная алмазодобывающая промышленная инфраструктура.

Климат в республике (умеренно/резко) континентальный, характерны сильные колебания температур воздуха в течение года. Разница температур самого холодного месяца — января и самого тёплого — июля составляет 70-75°C. Именно в Якутии находится Полюс холода северного полушария (Оймякон/Верхоянск), где в феврале 1892 г. была зарегистрирована температура (-67,8°C/-89,2°C).

Якутия относится к благополучным по обеспеченности водными ресурсами регионам. Западная часть региона расположена в бассейне реки (Енисей/Лена), восточная – в бассейнах рек Яны, Индигирки и Колымы. Большая часть территории Якутии расположена в зоне (тайги/тундры). Самым





крупным этносом является (якуты/русские), на которых приходится 49,9% населения (по переписи 2010 г.).



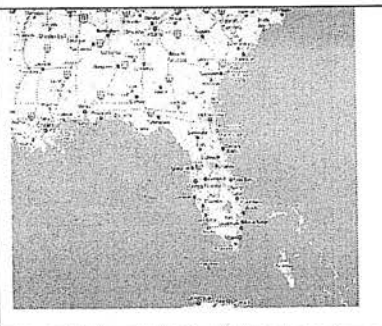

Критерии оценивания: за каждый правильный ответ - 1 балл, всего - 16 баллов.

Задание 4.

+ 12

«Определи объект по его изображению». Вам предстоит указать название полуостровов и ответить на вопросы, касающихся каждого из них. Результат занесите в таблицу.

№	Изображение	Название объекта	Особенности объекта
1		Иберийский п-ов	Две крупные страны, расположенные на этом полуострове: 1. <u>Испания</u> ; 2. <u>Португалия</u> .
2		п-ов Камчатка	1. Название океана, в который вдается этот полуостров: <u>Тихий</u> ; 2. Название региона России, который частично расположен на этом полуострове: <u>Чукотский АО</u> .
3		Апеннинский п-ов	1. Название страны, в основном располагающейся в границах этого полуострова: <u>Италия</u> .
4		Аравийский п-ов	1. Самая крупная страна на полуострове: <u>Саудовская Аравия</u> 2. Залив на северо-востоке полуострова: <u>Персидский</u> .

5		п-ов Калифорния	1. К территории какой страны относится полуостров: <u>США</u> .
6.		скандинавский п-ов	Назовите две страны, территории которых полностью расположены на этом полуострове: 1. <u>Швеция</u> ; 2. <u>Норвегия</u> .
7.		п-ов Флорида	1. К какой стране относится этот полуостров: <u>США</u> .
8		Индийский п-ов	1. Какая страна занимает практически полностью территорию этого полуострова: <u>Индия</u> .

Критерии оценивания: за каждый правильный ответ - 1 балл, всего - 20 баллов. +14

Задание 5.

Ответьте на вопрос

На тюменской земле берут старт мощные нефте- и газопроводы. Стальные артерии связали нас с центром страны, Волгой и Дунаем, пересекли государственные границы. Какие из них были самые первые, а какие самые длинные?

Критерии оценивания: за каждый правильный ответ - 1 балл, всего - 2 балла.

